





ΟΠΤΙΚΗ ΑΝΤΙΛΗΨΗ

Σταθερότητα σχήματος

Εύρεση παρόμοιων αντικειμένων /κατηγορία/

Βρες όλα τα κρεβάτια που βρίσκονται στην παρακάτω εικόνα και κύκλωσέ τα.





ΟΠΤΙΚΗ ΑΝΤΙΛΗΨΗ
Σταθερότητα σχήματος

Εύρεση παρόμοιων αντικειμένων /κατηγορία/

Βρες όλα τα κλειδιά που βρίσκονται στην παρακάτω εικόνα και κύκλωσέ τα.





ΟΠΤΙΚΗ ΑΝΤΙΛΗΨΗ

Οπτικός Εγκλεισμός

Αναγνώριση εικόνας και αντιστοίχιση αυτής με την κατάλληλη λέξη
Ένωσε με μια γραμμή την κάθε λέξη με την εικόνα που νομίζεις ότι ταιριάζει.



δώρο



κουτί



πίνω



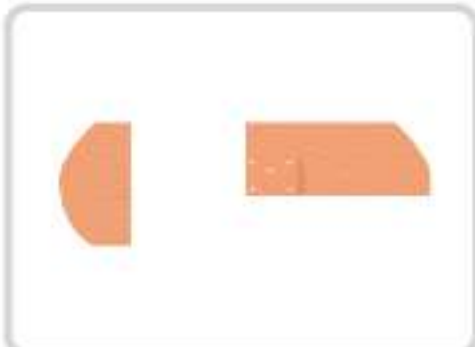

ψωμί



ΟΠΤΙΚΗ ΑΝΤΙΛΗΨΗ

Οπτικός Εγκλεισμός

Αναγνώριση εικόνας και αντιστοίχιση αυτής με την κατάλληλη λέξη
 Ένωσε με μια γραμμή την κάθε λέξη με την εικόνα που νομίζεις ότι ταιριάζει.



τσιρότο

φάλαινα

μολύβι

μέλισσα

τηγάνι



A square shape formed by connecting four dots at the corners with solid black lines.	A U-shaped figure formed by connecting four dots at the corners with solid black lines, with the top horizontal line missing.	A C-shaped figure formed by connecting four dots at the corners with solid black lines, with the right vertical line missing.	An H-shaped figure formed by connecting six dots at the corners and midpoints of the sides with solid black lines.
A 3x2 grid of six dots.	A 3x2 grid of six dots.	A 3x2 grid of six dots.	A 3x2 grid of six dots.

