



















## ΟΠΤΙΚΗ ΑΝΤΙΛΗΨΗ

### Σταθερότητα σχήματος

Εύρεση παρόμοιων αντικειμένων /ποσότητα/

Βρες σε κάθε σειρά και κύκλωσε τα τετράγωνα που έχουν ίδιο αριθμό βουλών.





## ΟΠΤΙΚΗ ΑΝΤΙΛΗΨΗ

### Σταθερότητα σχήματος

Εύρεση παρόμοιων αντικειμένων /ποσότητα/  
Βρες σε κάθε σειρά και κύκλωσε τους κύκλους που έχουν ίδιο αριθμό  
τετραγώνων.




## ΟΠΤΙΚΗ ΑΝΤΙΛΗΨΗ

### Οπτικός Εγκλεισμός

Αναγνώριση εικόνας και αντιστοίχιση στο φόντο  
Βρες τα κρυμμένα ζώα και ένωσέ τα με τα ίδια στην εικόνα.





## ΟΠΤΙΚΗ ΑΝΤΙΛΗΨΗ

### Οπτικός Εγκλεισμός

Συμπλήρωση εικόνας (πέντε επιλογές)  
Βρες και κύκλωσε το κομμάτι που λείπει.





A square shape formed by connecting dots with lines. The top and bottom edges are solid lines, while the left and right edges are dashed lines.	A square shape formed by connecting dots with lines. The top and bottom edges are solid lines, while the left and right edges are dashed lines.	A square shape formed by connecting dots with lines. The top and bottom edges are solid lines, while the left and right edges are dashed lines.	A square shape formed by connecting dots with lines. The top and bottom edges are solid lines, while the left and right edges are dashed lines.
A 3x2 grid of dots.	A 3x2 grid of dots.	A 3x2 grid of dots.	A 3x2 grid of dots.



