

ΤΑ ΕΥΡΩ – ΑΚΕΡΑΙΑ ΠΟΣΑ (III) ΣΥΝΑΛΛΑΓΕΣ ΜΕ ΧΡΗΜΑΤΑ

Πρόβλημα 1: Συναλλαγές με χρήματα

Βαθμός δυσκολίας: 2-Εύκολο

Οδηγίες: Ο μαθητής απαντάει στις ερωτήσεις του προβλήματος αφού πρώτα συμβουλευτεί τον «Τιμοκατάλογο» του κυλικείου.

Πρόβλημα 2: Συναλλαγές με χρήματα

Βαθμός δυσκολίας: 2-Εύκολο

Οδηγίες: Ο μαθητής απαντάει στις ερωτήσεις του προβλήματος αφού πρώτα συμβουλευτεί τον «Τιμοκατάλογο» του κυλικείου.

Πρόβλημα 3: Συναλλαγές με χρήματα

Βαθμός δυσκολίας: 3-Λίγο Δύσκολο

Οδηγίες: Ο μαθητής απαντάει στις ερωτήσεις του προβλήματος αφού πρώτα συμβουλευτεί τον «Τιμοκατάλογο» του κυλικείου.

Πρόβλημα 4: Συναλλαγές με χρήματα

Βαθμός δυσκολίας: 3-Λίγο Δύσκολο

Οδηγίες: Ο μαθητής απαντάει στις ερωτήσεις του προβλήματος αφού πρώτα συμβουλευτεί τον «Τιμοκατάλογο» του κυλικείου.













(Ερμηνεία βαθμών δυσκολίας: 0-Πολύ Εύκολο, 1-Αρκετά Εύκολο, 2-Εύκολο, 3-Λίγο Δύσκολο, 4-Δύσκολο)

Παρατήρηση: Το εικονίδιο



χρησιμοποιείται για να δείξει ότι δεν παίρνουμε ρέστα (ρέστα=0€).

Επιμέλεια: Λ. Βλαχάκη - Μαθηματικός

ΤΙΜΟΚΑΤΑΛΟΓΟΣ		
Τοστ (Γαλοπούλα – Τυρί)		1 € 
Τυρόπιτα Κουρού (Φέτα – Ανθότυρο)		1 € 
Μαλακά Cookies Σοκολάτας (Λαδιού 100gr)		1 € 
Χυμός Πορτοκάλι		0,50 € 
Χυμός Ανάμεικτος		0,50 € 
Νερό		0,40 € 

Επιμέλεια: Λ. Βλαχάκη - Μαθηματικός

*Απαγορεύεται η οποιασδήποτε μορφής αναπαραγωγή του υλικού χωρίς αναφορά στα στοιχεία της δημιουργού.

Πρόβλημα 1

Η Μαρία θέλει να αγοράσει από το κυλικείο του σχολείου **1 τόστ**



Συμβουλευόσου τον τιμοκατάλογο του κυλικείου

Μπισκότο		
Τόστ		
Πορτοκάλι		
Μαξιμάρι		
Μαξιμάρι		
Μαξιμάρι		
Μαξιμάρι		
Μαξιμάρι		
Μαξιμάρι		
Μαξιμάρι		

και απάντησε στις παρακάτω ερωτήσεις.

A. Πόσα χρήματα πρέπει να πληρώσει η Μαρία;

α) Κύκλωσε τη σωστή απάντηση:



β) Γράψε την απάντησή σου:

B. Αν η Μαρία δώσει στον υπάλληλο του κυλικείου **1 ευρώ**



πόσα χρήματα πρέπει να πάρει ρέστα;

α) Κύκλωσε τη σωστή απάντηση:



β) Γράψε την απάντησή σου:

Επιμέλεια: Λ. Βλαχάκη - Μαθηματικός

*Απαγορεύεται η οποιασδήποτε μορφής αναπαραγωγή του υλικού χωρίς αναφορά στα στοιχεία της δημιουργού.

Πρόβλημα 2

Η Μαρία θέλει να αγοράσει από το κυλικείο του σχολείου **1 Cookies**



Συμβουλέψου τον τιμοκατάλογο του κυλικείου

Ποσότητα	Τιμή
1 Cookie	0,20 €
2 Cookies	0,40 €
3 Cookies	0,60 €
4 Cookies	0,80 €
5 Cookies	1,00 €
6 Cookies	1,20 €
7 Cookies	1,40 €
8 Cookies	1,60 €
9 Cookies	1,80 €
10 Cookies	2,00 €

και απάντησε στις

παρακάτω ερωτήσεις.

A. Πόσα χρήματα πρέπει να πληρώσει η Μαρία;

α) Κύκλωσε τη σωστή απάντηση:



β) Γράψε την απάντησή σου:

B. Αν η Μαρία δώσει στον υπάλληλο του κυλικείου **2 ευρώ**



πόσα

χρήματα πρέπει να πάρει ρέστα;

α) Κύκλωσε τη σωστή απάντηση:



β) Γράψε την απάντησή σου:

Επιμέλεια: Λ. Βλαχάκη - Μαθηματικός

*Απαγορεύεται η οποιασδήποτε μορφής αναπαραγωγή του υλικού χωρίς αναφορά στα στοιχεία της δημιουργού.

Πρόβλημα 3

Η Μαρία θέλει να αγοράσει από το κυλικείο του σχολείου **1 τυρόπιτα**



Συμβουλέψου τον τιμοκατάλογο του κυλικείου

Ποσότητα	Τυρόπιτα	Κοτόπιτα	Παστέλι	Καλαμάκι	Ποτό
1	0,50 €	0,50 €	0,50 €	0,50 €	0,50 €
2	1,00 €	1,00 €	1,00 €	1,00 €	1,00 €
3	1,50 €	1,50 €	1,50 €	1,50 €	1,50 €
4	2,00 €	2,00 €	2,00 €	2,00 €	2,00 €
5	2,50 €	2,50 €	2,50 €	2,50 €	2,50 €

και απάντησε στις

παρακάτω ερωτήσεις.

A. Πόσα χρήματα πρέπει να πληρώσει η Μαρία;

α) Κύκλωσε τη σωστή απάντηση:



β) Γράψε την απάντησή σου:

B. Αν η Μαρία δώσει στον υπάλληλο του κυλικείου **5 ευρώ**



πόσα

χρήματα πρέπει να πάρει ρέστα;

α) Κύκλωσε τη σωστή απάντηση:



β) Γράψε την απάντησή σου:

Επιμέλεια: **Λ. Βλαχάκη - Μαθηματικός**

*Απαγορεύεται η οποιασδήποτε μορφής αναπαραγωγή του υλικού χωρίς αναφορά στα στοιχεία της δημιουργού.

Πρόβλημα 4

Η Μαρία θέλει να αγοράσει από το κυλικείο του σχολείου **1 τόστ**



Συμβουλέψου τον τιμοκατάλογο του κυλικείου

Ποτό		
Ποτό		
Ποτό		
Ποτό		
Ποτό		
Ποτό		
Ποτό		
Ποτό		
Ποτό		
Ποτό		

και απάντησε στις παρακάτω ερωτήσεις.

A. Πόσα χρήματα πρέπει να πληρώσει η Μαρία;

α) Κύκλωσε τη σωστή απάντηση:



β) Γράψε την απάντησή σου:

B. Αν η Μαρία δώσει στον υπάλληλο του κυλικείου **10 ευρώ**



πόσα χρήματα πρέπει να πάρει ρέστα;

α) Κύκλωσε τη σωστή απάντηση:



β) Γράψε την απάντησή σου:

Επιμέλεια: Λ. Βλαχάκη - Μαθηματικός

*Απαγορεύεται η οποιασδήποτε μορφής αναπαραγωγή του υλικού χωρίς αναφορά στα στοιχεία της δημιουργού.