

## ΤΑ ΚΕΡΜΑΤΑ ΤΟΥ ΕΥΡΩ (IV) ΣΥΝΑΛΛΑΓΕΣ ΜΕ ΧΡΗΜΑΤΑ

### Πρόβλημα 1: Συναλλαγές με χρήματα

**Βαθμός δυσκολίας:** 2-Εύκολο

**Οδηγίες:** Ο μαθητής απαντάει στις ερωτήσεις του προβλήματος αφού πρώτα συμβουλευτεί τον «Τιμοκατάλογο» του κυλικείου.

### Πρόβλημα 2: Συναλλαγές με χρήματα

**Βαθμός δυσκολίας:** 3-Λίγο Δύσκολο

**Οδηγίες:** Ο μαθητής απαντάει στις ερωτήσεις του προβλήματος αφού πρώτα συμβουλευτεί τον «Τιμοκατάλογο» του κυλικείου.

### Πρόβλημα 3: Συναλλαγές με χρήματα

**Βαθμός δυσκολίας:** 3-Λίγο Δύσκολο

**Οδηγίες:** Ο μαθητής απαντάει στις ερωτήσεις του προβλήματος αφού πρώτα συμβουλευτεί τον «Τιμοκατάλογο» του κυλικείου.

### Πρόβλημα 4: Συναλλαγές με χρήματα

**Βαθμός δυσκολίας:** 3-Λίγο Δύσκολο

**Οδηγίες:** Ο μαθητής απαντάει στις ερωτήσεις του προβλήματος αφού πρώτα συμβουλευτεί τον «Τιμοκατάλογο» του κυλικείου.

### Πρόβλημα 5: Συναλλαγές με χρήματα

**Βαθμός δυσκολίας:** 3-Λίγο Δύσκολο













**Οδηγίες:** Ο μαθητής απαντάει στις ερωτήσεις του προβλήματος αφού πρώτα συμβουλευτεί τον «Τιμοκατάλογο» του κυλικείου.

(Ερμηνεία βαθμών δυσκολίας: 0-Πολύ Εύκολο, 1-Αρκετά Εύκολο, 2-Εύκολο, 3-Λίγο Δύσκολο, 4-Δύσκολο)

**Παρατήρηση:** Το εικονίδιο  
ρέστα (ρέστα=0€).



χρησιμοποιείται για να δείξει ότι δεν παίρνουμε


<b>ΤΙΜΟΚΑΤΑΛΟΓΟΣ</b>		
<b>Τοστ (Γαλοπούλα – Τυρί)</b>		<b>1 €</b> 
<b>Τυρόπιτα Κουρού (Φέτα – Ανθότυρο)</b>		<b>1 €</b> 
<b>Μαλακά Cookies Σοκολάτας (Λαδιού 100gr)</b>		<b>1 €</b> 
<b>Χυμός Πορτοκάλι</b>		<b>0,50 €</b> 
<b>Χυμός Ανάμεικτος</b>		<b>0,50 €</b> 
<b>Νερό</b>		<b>0,40 €</b> 

**Επιμέλεια: Λ. Βλαχάκη – Μαθηματικός**

\*Απαγορεύεται η οποιασδήποτε μορφής αναπαραγωγή του υλικού χωρίς αναφορά στα στοιχεία της δημιουργού.

## Πρόβλημα 1

Η Μαρία θέλει να αγοράσει από το κυλικείο του σχολείου **1 χυμό πορτοκάλι** .


Συμβουλευόσου τον τιμοκατάλογο του κυλικείου  και απάντησε στις παρακάτω ερωτήσεις.

A. Πόσα χρήματα πρέπει να πληρώσει η Μαρία;

α) Κύκλωσε τη σωστή απάντηση:



β) Γράψε την απάντησή σου: .....

B. Αν η Μαρία δώσει στον υπάλληλο του κυλικείου **50 λεπτά**  πόσα χρήματα πρέπει να πάρει ρέστα;

α) Κύκλωσε τη σωστή απάντηση:




β) Γράψε την απάντησή σου: .....

Επιμέλεια: **Λ. Βλαχάκη – Μαθηματικός**

\*Απαγορεύεται η οποιασδήποτε μορφής αναπαραγωγή του υλικού χωρίς αναφορά στα στοιχεία της δημιουργού.

## Πρόβλημα 2

Η Μαρία θέλει να αγοράσει από το κυλικείο του σχολείου **1 χυμό πορτοκάλι** .


Συμβουλευόσου τον τιμοκατάλογο του κυλικείου  και απάντησε στις παρακάτω ερωτήσεις.

A. Πόσα χρήματα πρέπει να πληρώσει η Μαρία;

α) Κύκλωσε τη σωστή απάντηση:



β) Γράψε την απάντησή σου: .....

B. Αν η Μαρία δώσει στον υπάλληλο του κυλικείου **1 ευρώ**  πόσα χρήματα πρέπει να πάρει ρέστα;

α) Κύκλωσε τη σωστή απάντηση:




β) Γράψε την απάντησή σου: .....

Επιμέλεια: **Λ. Βλαχάκη – Μαθηματικός**

\*Απαγορεύεται η οποιασδήποτε μορφής αναπαραγωγή του υλικού χωρίς αναφορά στα στοιχεία της δημιουργού.

### Πρόβλημα 3

Η Μαρία θέλει να αγοράσει από το κυλικείο του σχολείου **1** χυμό ανάμεικτο .


Συμβουλευόσου τον τιμοκατάλογο του κυλικείου  και απάντησε στις παρακάτω ερωτήσεις.

A. Πόσα χρήματα πρέπει να πληρώσει η Μαρία;

α) Κύκλωσε τη σωστή απάντηση:



β) Γράψε την απάντησή σου: .....

B. Αν η Μαρία δώσει στον υπάλληλο του κυλικείου **2 ευρώ**  πόσα χρήματα πρέπει να πάρει ρέστα;

α) Κύκλωσε τη σωστή απάντηση:




β) Γράψε την απάντησή σου: .....

**Επιμέλεια: Α. Βλαχάκη – Μαθηματικός**

\*Απαγορεύεται η οποιασδήποτε μορφής αναπαραγωγή του υλικού χωρίς αναφορά στα στοιχεία της δημιουργού.

## Πρόβλημα 4

Η Μαρία θέλει να αγοράσει από το κυλικείο του σχολείου **1 μπουκαλάκι νερό** .


Συμβουλέψου τον **τιμοκατάλογο** του κυλικείου  και απάντησε στις παρακάτω ερωτήσεις.

A. Πόσα χρήματα πρέπει να πληρώσει η Μαρία;

α) Κύκλωσε τη σωστή απάντηση:



β) Γράψε την απάντησή σου: .....

B. Αν η Μαρία δώσει στον υπάλληλο του κυλικείου **50 λεπτά**  πόσα χρήματα πρέπει να πάρει ρέστα;

α) Κύκλωσε τη σωστή απάντηση:



β) Γράψε την απάντησή σου: .....

**Επιμέλεια: Α. Βλαχάκη – Μαθηματικός**

\*Απαγορεύεται η οποιασδήποτε μορφής αναπαραγωγή του υλικού χωρίς αναφορά στα στοιχεία της δημιουργού.

## Πρόβλημα 5

Η Μαρία θέλει να αγοράσει από το κυλικείο του σχολείου **1 μπουκαλάκι νερό** .

Συμβουλέψου τον **τιμοκατάλογο** του κυλικείου

ΠΡΟΪΟΝΤΑ			
ΠΡΟΪΟΝΤΑ			
ΠΡΟΪΟΝΤΑ			
ΠΡΟΪΟΝΤΑ			
ΠΡΟΪΟΝΤΑ			
ΠΡΟΪΟΝΤΑ			
ΠΡΟΪΟΝΤΑ			
ΠΡΟΪΟΝΤΑ			
ΠΡΟΪΟΝΤΑ			
ΠΡΟΪΟΝΤΑ			

και απάντησε στις

παρακάτω ερωτήσεις.

A. Πόσα χρήματα πρέπει να πληρώσει η Μαρία;

α) Κύκλωσε τη σωστή απάντηση:



β) Γράψε την απάντησή σου: .....

B. Αν η Μαρία δώσει στον υπάλληλο του κυλικείου **1 ευρώ**



πόσα

χρήματα πρέπει να πάρει ρέστα;

α) Κύκλωσε τη σωστή απάντηση:



β) Γράψε την απάντησή σου: .....

Επιμέλεια: Α. Βλαχάκη – Μαθηματικός

\*Απαγορεύεται η οποιασδήποτε μορφής αναπαραγωγή του υλικού χωρίς αναφορά στα στοιχεία της δημιουργού.